

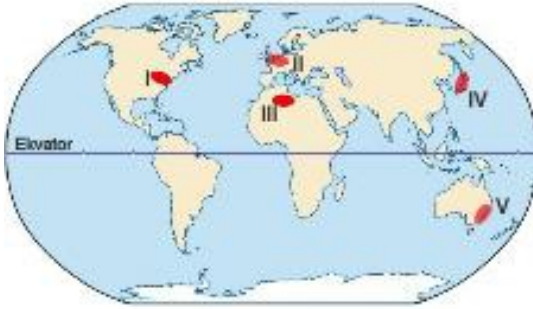
10. SINIF COĞRAFYA ÜDS

1. En genel anlamıyla insan veya eşyanın bir yerden başka bir yere taşınmasıdır.

**Yukarıda tanımı verilen ekonomik faaliyet aşağıdakilerden hangisidir?**

- A) Tarım                      B) Ulaşım                      C) Turizm  
D) Sanayi                      E) Ticaret

2. Ulaşım ağlarının sıklığı ve kalitesi ülkelerin gelişmişlik düzeyini gösterir. Gelişmiş ülkelerde ulaşım ağı sık, ulaşım sistemleri çeşitli, hızlı ve konfortudur. Az gelişmiş ülkelerde ise ulaşım imkânları ve ulaşım teknolojisi yeteri kadar gelişmemiştir.



**Buna göre haritada numaralı alanların hangisinde ulaşım diğerlerinden daha az gelişmiştir?**

- A) I      B) II      C) III      D) IV      E) V

3. I. İklim  
II. Sermaye  
III. Teknoloji  
IV. Yeryüzü şekilleri

**Yukarıdakilerden hangileri ulaşımı etkileyen fiziki faktörlerdir?**

- A) I ve II                      B) I ve IV                      C) II ve III  
D) II ve IV                      E) III ve IV

4. Manchester – Liverpool arasında 1830 yılında yapılan demir yolu, esas itibarıyla yük taşımak için tasarlanmış olup bunun yanında yolcu taşıyan ilk hat olmuştur.

**Buna göre dünyadaki ilk demir yolu hattı aşağıdaki ülkelerden hangisinde hizmete açılmıştır?**

- A) İngiltere                      B) ABD                      C) Fransa  
D) İsviçre                      E) Almanya

5. Genellikle sıvı ve gaz maddeleri taşıma amacıyla yapılmış olan boru hatları özellikle ham madde ve enerji kaynağı niteliğindeki maddelerin üretim merkezlerinden tüketim merkezlerine ulaştırılmasını sağlayarak ülke ekonomilerine de büyük katkı sağlar.

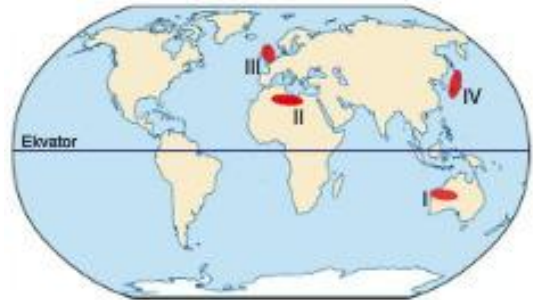
**Buna göre**

- I. su,  
II. doğal gaz,  
III. petrol

**unsurlarından hangileri boru hatları ile taşınmaktadır?**

- A) Yalnız I                      B) Yalnız II                      C) Yalnız III  
D) I ve II                      E) I, II ve III

6. Aşağıdaki haritada dört bölge numaralandırılarak gösterilmiştir.



**Yukarıdaki haritada gösterilen numaralı bölgelerden hangilerinde demir yolu ulaşım sistemi gelişmemiştir?**

- A) I ve II                      B) I ve III                      C) II ve III  
D) II ve IV                      E) III ve IV

7. I. Kızıldeniz'i Akdeniz'e bağlayan su yoludur.  
II. Akdeniz'i Atlas Okyanusu'na bağlayan su yoludur.  
III. Tarih değiştirme çizgisinin geçtiği bu boğaz aynı zamanda Amerika ile Asya'yı birbirinden ayırır.

**Yukarıda özellikleri verilen su yolları, aşağıdakilerin hangisinde doğru sırada verilmiştir?**

I	II	III
A) Panama	Kiel	Macellan
B) Süveyş	Hürmüz	Panama
C) Süveyş	Cebelitarık	Bering
D) Malakka	Hürmüz	Cebelitarık
E) Panama	Macellan	Korint

8. İki su kütlelerini birleştiren doğal su yollarına "boğaz", iki su kütlelerini birleştirmek için insanlar tarafından açılan su yollarına ise "kanal" adı verilir.

- I. Hürmüz  
II. Panama  
III. Macellan  
IV. Kiel

**Buna göre yukarıdakilerden hangileri doğal su yolları olan boğazlardır?**

- A) I ve II      B) I ve III      C) II ve III  
D) II ve IV      E) III ve IV

9. I. Deprem  
II. Heyelan  
III. Orman yangını  
IV. Çığ

**Meydana gelme sıklığı açısından ele alınırsa, yukarıda verilen afetlerden hangileri Türkiye'de daha sık görülür?**

- A) I ve II      B) I ve III      C) II ve III  
D) II ve IV      E) III ve IV

10. Afet yönetim sistemleri üzerindeki çalışmalar gelişmiş ülkelerde ve ülkemizde hızla artarak devam etmektedir. Ancak az gelişmiş ülkelerde bu alandaki çalışmalar çok yetersizdir. Gelişmiş ülkeler ile az gelişmiş ülkeler arasında afet yönetimi konusundaki bu farklılıklar yaşanan benzer afetlerin sonuçları açısından büyük farklar ortaya çıkarmaktadır.

**Buna göre;**

- I. Gelişmişlik düzeyleri farklı olan ülkelerde oluşan benzer doğal afetlerin sonuçları farklı olmaktadır.  
II. Gelişmiş ülkelerde meydana gelen afet sayısı daha azdır.  
III. Doğal afetlerin tümü teknoloji yardımıyla afet henüz oluşmadan önenebilir.

**yargılarından hangilerine ulaşamaz?**

- A) Yalnız I      B) Yalnız II      C) I ve II  
D) I ve III      E) II ve III

11. Benim yaşadığım ülkede şiddetli fırtınalar, hortumlar günlük hayatın bir parçasıdır.

**Yukarıdaki açıklamayı yapan kişi aşağıdaki ülkelerden hangisinde yaşıyor olabilir?**

- A) Rusya      B) Kanada      C) İngiltere  
D) Filipinler      E) İspanya

12. "Meksika'nın Büyük Okyanus kıyılarını etkileyen ve hızı saate 140 km'ye ulaşan Beatriz kasırgasının kıyı bölgelerde şiddetli yağışlara ve dev dalgalara neden olduğu bildiriliyor. Haber kaynakları ülkenin önemli turizm bölgeleri arasında yer alan Acapulca ve Manzanilla limanlarının kasırga nedeniyle kapatıldığını ifade ediyor"

**Yukarıda verilen TV haberine göre Meksika kıyılarındaki şehirlerde kasırga etkisiyle;**

- I. ulaşımında aksama,  
II. sel ve taşkın riskinin artması,  
III. jeopolitik öneminin azalması

**sonuçlarından hangilerinin ortaya çıkması beklenir?**

- A) Yalnız I      B) Yalnız III      C) I ve II  
D) I ve III      E) II ve III



Jeolojik yapıları göz önüne alınırsa, yukarıdaki haritada gösterilen numaralı yerlerden hangisinde tektonik kökenli şiddetli bir deprem görülme olasılığı **en azdır**?

- A) I B) II C) III D) IV E) V

14. Kimi zaman bir doğal afet başka bir afet meydana gelmesine neden olabilmektedir.

Buna göre, aşağıdakilerden hangisinde bir doğal afet ile bu doğal afetin neden olduğu başka bir afet **yanlış eşleştirilmiştir**?

- A) Tropikal siklon – Sel  
B) Çığ – Tektonik deprem  
C) Aşırı sıcaklık – Kuraklık  
D) Şiddetli yağış – Heyelan  
E) Deniz altı volkanizması – Tsunami

15. İnsanlar, yaşamlarını devam ettirebilmek, ihtiyaçlarını karşılayabilmek veya daha iyi yaşam şartlarına sahip olabilmek için çeşitli mesleki faaliyetlerde bulunur.

Bu mesleki faaliyetlere genel olarak verilen isim aşağıdakilerden hangisidir?

- A) Ekonomi B) Tarım C) Ticaret  
D) Turizm E) Sanayi

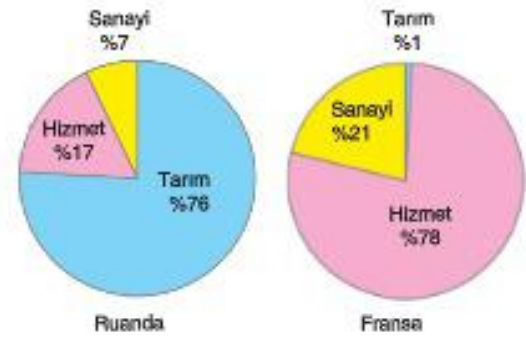
16. Temel maddelerin, doğrudan veya dolaylı olarak doğal çevreden temin edilmesine birincil ekonomik faaliyet adı verilir.

- I. Balıkçılık  
II. Ormancılık  
III. Madencilik

Buna göre yukarıdakilerden hangileri birincil ekonomik faaliyetlerdendir?

- A) Yalnız I B) Yalnız III C) I ve II  
D) II ve III E) I, II ve III

17. Aşağıda Ruanda ve Belçika'da çalışan nüfusun ekonomik faaliyet kollarına dağılım oranları verilmiştir.



Grafiklerdeki bilgiler dikkate alınarak Ruanda ve Belçika karşılaştırıldığında, Ruanda için aşağıdakilerden hangisi söylenebilir?

- A) Gelişmişlik düzeyi daha yüksektir.  
B) Kişi başına düşen yıllık milî geliri daha fazladır.  
C) Tarımsal verim daha düşüktür.  
D) İthalatında ham maddeler ilk sırada yer alır.  
E) Sanayi ürünleri ihracatı daha fazladır.

18. İkincil ekonomik faaliyetler, birincil ekonomik faaliyetlerden elde edilen ham maddelerin veya yarı işlenmiş maddelerin kullanılarak yeni ürünler elde edilmesine dayanır.

**Buna göre aşağıdakilerden hangisi, ikincil ekonomik faaliyet alanında çalışanlara örnek verilemez?**

- A) Tekstil atölyesinde çalışan Yasemin Hanım  
B) Marangoz ustalığı yapan Selim Bey  
C) Petrol rafinerisinde çalışan Hasan Bey  
D) Besicilik yapan Nuri Bey  
E) Kâğıt fabrikasında çalışan Hatice Hanım

19. I. Çoban  
II. Reklam yayıncısı  
III. Fabrika işçisi  
IV. Tır şoförü

**Yukarıdaki mesleklerden hangilerindeki insanlar sırasıyla birincil ve dördüncül ekonomik faaliyet alanında çalışmaktadır?**

- A) I ve II                      B) I ve III                      C) I ve IV  
D) II ve III                      E) III ve IV

20. Üçüncül ekonomik faaliyetlerde doğrudan bir üretim görülmemekle birlikte insanlara ve diğer ekonomik faaliyetlere ürün ve hizmet sağlanması esastır.

**Buna göre aşağıdakilerden hangisi üçüncül ekonomik faaliyet alanında çalışanlara örnek verilemez?**

- A) Hemşire                      B) Öğretmen                      C) Marangoz  
D) Sigortacı                      E) Polis